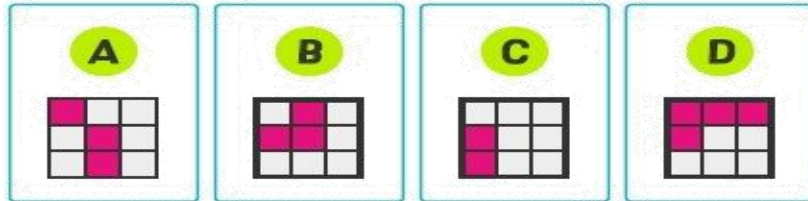
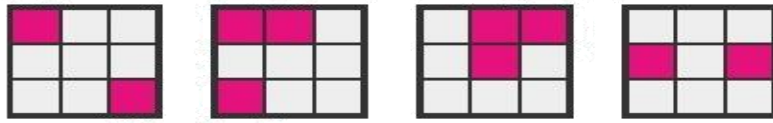


6月4週目クイズ

問題

4つの図形に

共通する図形はどれ？




{ HINT } マスには左上から順番に1~9までの数字が入ります。

6月3週目クイズ

問題

釣り合うのはどれ？




{ HINT } 重さの比率を整理しましょう。

解答

果物の重さの比率を見てみると、
まずはっきりしているのは「イチゴ：ミカン=2：1」の比率です。



これをもとに考えると、1番目は「イチゴ：リンゴ=5：1」となり、
2番目はリンゴがイチゴ5個分なので「イチゴ：バナナ=6：2=3：1」、
という関係が見えてきます。



数字で言うと、
「イチゴ=1、ミカン=2、バナナ=3、リンゴ=5」。



上記の法則から、「リンゴ2つ」は「10」。
選択肢の中で「10」になる組み合わせは
「(ミカン2×2) + (バナナ3×2)」なので、正解は「D」となります。

